



# الرياضيات

كتاب النشاط

٣

## ثالثنا:

## الصف

## الثالث

المعلومات المعدات لأدوات التقويم

أ. نافجة الهاشمية / أ. راية البلوشية

أ. مريم الطاعونية / أ. رحمة الحربية

الفصل الدراسي الأول

مشرفة التقويم / فاطمة المسكوية

الطبعة التجريبية ١٤٢٨ هـ - ٢٠١٧ م

CAMBRIDGE  
UNIVERSITY PRESS

السؤال القصير ( ١ )لمادة العلوم للصف الثالث

اسم الطالب / ة : .....

الصف : ٣ / .....

الدرجة الكلية / ..... / ٥

ظلل الشكل البيضاوي يمين الإجابة الصحيحة : (درجة )

(١) المجموعة الغذائية التي يجب أن نأكل منها بأقل كمية هي :

النشويات  البروتينات  الدهون  الخضروات والفواكه

(٢) أكمل الفراغ بالكلمة واحدة مناسبة : (٢ درجة )

(أ) تناول السكريات بكثرة يضر بـ \_\_\_\_\_

(ب) تناول الكثير من الدهون والملح يضر بـ \_\_\_\_\_

(٣) صنف الأكلات التالية ( كولا ، برتقال ، كيك ، أرز ) إلى غذاء صحي وغير صحي : (٢ درجة )

غير صحي	صحي



نموذج الإجابة السؤال القصير ١ للعلوم للصف الثالث

المفردة	الإجابة	الدرجة	مستوى التعليم	الهدف						
١	الدهون	١	معرفة	الوحدة الثانية / الاعتناء بأنفسنا نظام غذائي غير صحي						
٢	أ	٢	تطبيق	الوحدة الثانية / الاعتناء بأنفسنا ( نظام غذائي غير صحي )						
	ب									
٣	<table border="1"> <tr> <td>صحي</td> <td>غير صحي</td> </tr> <tr> <td>برتقال</td> <td>كولا</td> </tr> <tr> <td>أرز</td> <td>كيك</td> </tr> </table>	صحي	غير صحي	برتقال	كولا	أرز	كيك	٢ ( إذا الكل صحيح ) درجة ) إذا صنف كلمتين أو ٣ كلمات ) صفر ) إذا واحدة صحيحة	تطبيق	الوحدة الثانية / الاعتناء بأنفسنا ( نظام غذائي صحي وغير صحي )
صحي	غير صحي									
برتقال	كولا									
أرز	كيك									



سنطنة عمان

وزارة التربية والتعليم

المديرية العامة بمحافظة جنوب الشرقية

مدرسة سيح السنده للتعليم الأساسي ( ١ - ٤ )

اسم الطالب / ة : .....

الصف : ٣ / .....

الدرجة الكلية / .....

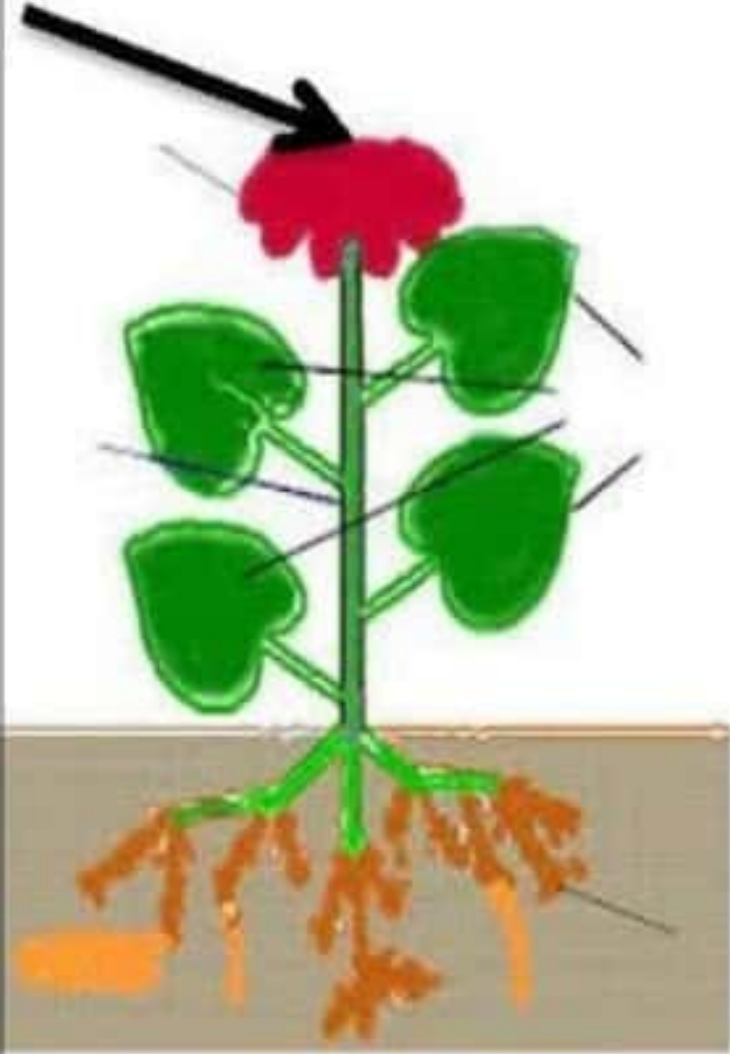
الواجب المنزلي ( ١ )

لمادة العلوم للصف الثالث

ظلل الشكل البيضاوي يمين الإجابة الصحيحة : ( معرفة ، درجة )

( ١ ) يشير السهم الى جزء من أجزاء النبات هو

الأوراق  الجذور  الأزهار  الساق



( ٢ ) أكمل فيما يلي ( معرفة ، ٢ درجة )

يحتاج النبات لكي ينمو ؟

أ- .....

ب- .....

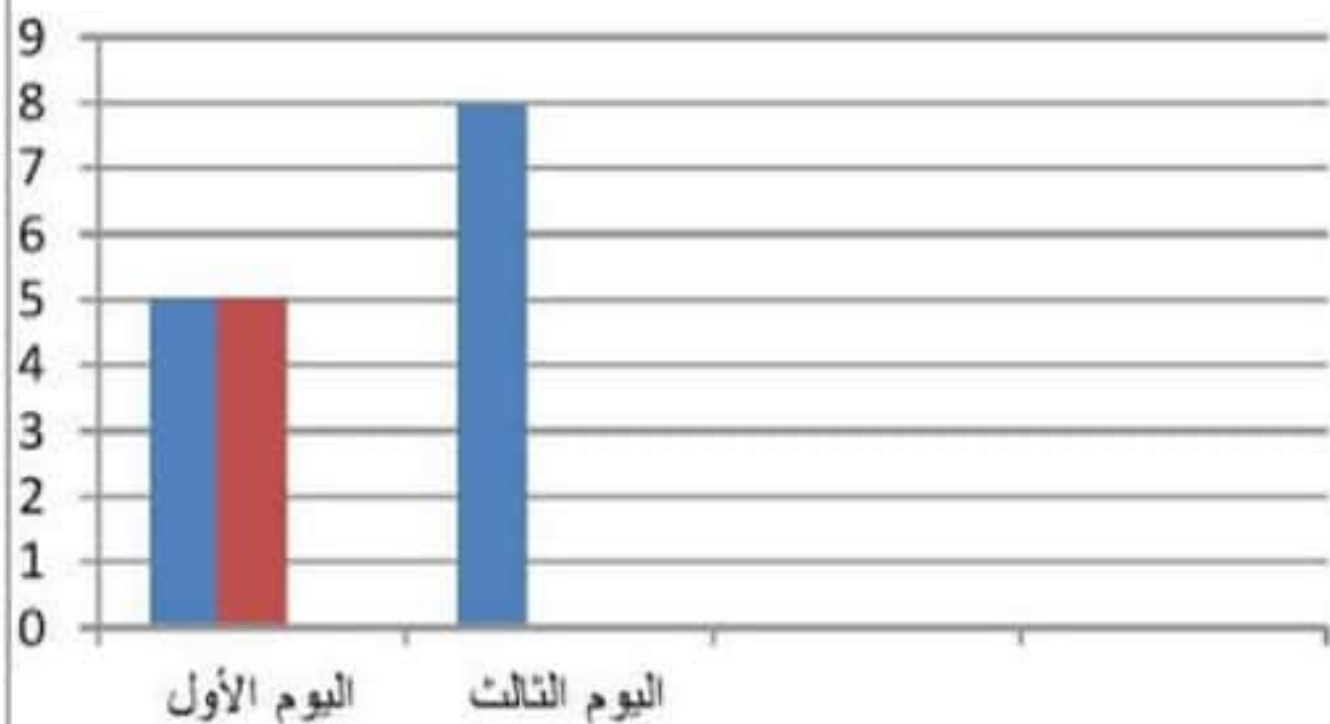
( ٣ ) صل العمود الأول ( أجزاء النبات ) بوظيفته في العمود الثاني : ( معرفة ، درجة )

العمود الثاني
الوظيفة
تمتص الماء من التربة
تنتج البذور
تصنع الغذاء للنبات
ينقل الماء إلى الأوراق والأزهار

العمود الأول
أجزاء النبات
الأوراق
الجذور
الساق
الأزهار

( ٣ ) لدى أحمد نبتتان متشابهتان قام بري واحدة ولم يرو الأخرى ومن ثم قام بقياس طول النبتتين كل يوم .

هذه نتائج اليوم الأول والثالث . ( أرسم التمثيل البياني بالأعمدة لليوم الثالث بدون الماء )



مع الماء  
بدون ماء  
عموداً

اليوم	مع الماء (سم)	بدون ماء (سم)
اليوم الأول	5	5
اليوم الثالث	8	4



نموذج الإجابة الواجب المنزلي ١ للعلوم للصف الثالث

الهدف	مستوى التعليم	الدرجة	الإجابة	الم فر دة
<u>الوحدة الأولى / الاعتناء بالنباتات</u> <u>النباتات وأجزاؤها</u>	معرفة	١	الازهار	١
<u>الوحدة الأولى / الاعتناء بالنباتات</u> <u>(النباتات بحاجة إلى الضوء والماء)</u>	معرفة	١	الضوء	أ
		١	الماء	ب
<u>الوحدة الأولى / الاعتناء بالنباتات</u> <u>(نقل الماء )</u>	معرفة	١	الأوراق : صنع الغذاء للنبات الجنور: تمتص الماء من التربة الساق : ينقل الماء إلى الأوراق والازهار الازهار : تنتج البذور	٣
<u>الوحدة الأولى / الاعتناء بالنباتات</u> <u>(النباتات بحاجة إلى الضوء والماء)</u>	تطبيق	١	 <p>مع الماء بدون ماء عموداً</p> <p>اليوم الأول    اليوم الثالث</p>	٤

## اختبار مادة العلوم ( ١ )

## للفص الثالث

اسم الطالب / ة : .....

الصف : ٣ / .....

معرفة وفهم / .....

حل مشكلات / .....

الدرجة الكلية / .....

ظل الشكل البيضاوي يمين الإجابة الصحيحة :

١- لعظام وأسنان قوية تحتاج إلى : (درجة )

○ الحلويات ○ مشتقات الالبان ○ النشويات ○ البروتينات

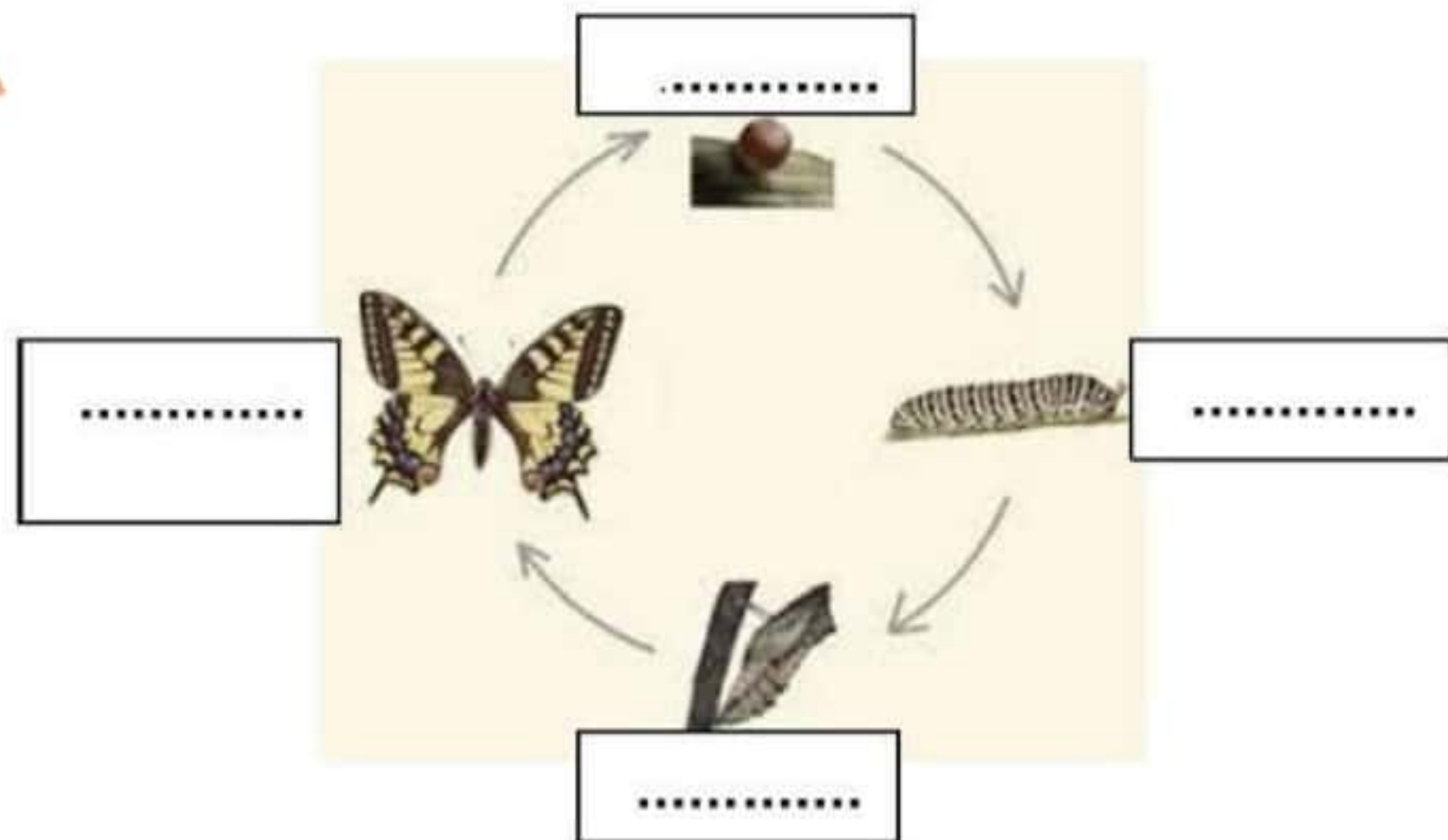
٢- عندما نعيش من دون ماء لأيام قليلة فإن . (درجة )

ضع الرمز (√) داخل المربع الصحيح لكل عبارة .

العبارة	صواب	خطأ
أ) نصاب بالجفاف عندما ينقص الماء من أجسامنا .	<input type="checkbox"/>	<input type="checkbox"/>
ب) الماء من النظام الغير الصحي.	<input type="checkbox"/>	<input type="checkbox"/>

٣- ممارسة التمارين الرياضية مفيدة للقلب والعظام و ..... (درجة )

٤) أكتب المصطلحات على دورة حياة الفراشة التالية ( ٢ درجة )





٥) صنف الأشياء التالية إلى كائنات حية وأشياء غير حية : (٢ درجة)  
(نبات ، كرة ، جمل ، طاولة)

كائنات حية	أشياء غير حية


ظل الشكل البيضاوي يمين الإجابة الصحيحة : (درجة)

١- قام محمد بوضع وردة بيضاء ذات ساق في وعاء الماء ثم أضاف قطرات قليلة من الصبغة الحمراء ، فان ما سيحدث للنبته هو ؟



○ يصبح لونها أزرق ○ تموت ○ يصبح لونها أحمر ○ لا يحدث شيء

٢- خطط فيصل وجاسم للقيام باستقصاء



أ) أي النبتتين ستتمو بشكل أفضل ؟

ب) ماذا سيحدث اذا وضعت النبتة رقم ٢ في مكان مظلم ؟

(٢ درجة)

تمنياتى لكم بالتوفيق والنجاح ...